


Žadatel skupina CE

| | |
|----|--|
| 1. | <p>[2 b.] Provozovatel silničního motorového vozidla nesmí provozovat na pozemních komunikacích vozidlo, které:</p> <ul style="list-style-type: none">a) Je technicky nezpůsobilé k provozu.b) Není opatřeno dálniční známkou.c) Má registrační značku jiného státu. |
| 2. | <p>[2 b.] Řidič předjížděného vozidla:</p>  <p>The image shows a narrow asphalt road in a rural area. A white car is in the foreground, viewed from the rear, with its left headlight illuminated. A black car is further ahead on the road. The background features a yellow house with a red roof and some greenery. There is a small copyright notice in the bottom right corner of the image: '© Česká republika - Ministerstvo dopravy'.</p> <ul style="list-style-type: none">a) Nesmí zvyšovat rychlost ani jinak bránit předjíždění.b) Může zvyšovat rychlost a bránit i jinak v předjíždění.c) Může zvyšovat rychlost, pokud má silnější vozidlo. |
| 3. | <p>[2 b.] Ve zvláštním motorovém vozidle nesmějí být přepravovány:</p> <ul style="list-style-type: none">a) Osoby mladší 18 let.b) Osoby starší 60 let.c) Osoby mladší 15 let. |
| 4. | <p>[2 b.] Podél nástupního nebo ochranného ostrůvku se jezdí:</p> <ul style="list-style-type: none">a) Vpravo; vlevo se smí jet tehdy, brání-li jízdě vpravo překážka nebo jestliže je to bezpečnější s ohledem na rozměry vozidla nebo nákladu.b) Výlučně vpravo; vlevo za žádných okolností.c) Zásadně vlevo. |

| | |
|----|--|
| 5. | <p>[2 b.] Řidiči je na dálnici a na silnici pro motorová vozidla zakázáno:</p> <p>a) Otáčení, couvání a vjíždění na střední dělicí pás včetně míst, kde je pás přerušen.</p> <p>b) Couvání; vjíždění na střední dělicí pás a otáčení je dovoleno jen v místech, kde je tento pás přerušen.</p> <p>c) Otáčení; couvání a vjíždění na střední dělicí pás je dovoleno jen v místech, kde tento pás není přerušen.</p> |
| 6. | <p>[2 b.] "Jízdní pruh" je část vozovky:</p> <p>a) vždy vyznačená vodorovnou dopravní značkou.</p> <p>b) široká nejméně 3,5 m.</p> <p>c) dovolující jízdu vozidel v jednom jízdním proudu za sebou.</p> |
| 7. | <p>[2 b.] Křižovatka je místo:</p> <p>a) V němž se pozemní komunikace protínají nebo spojují.</p> <p>b) Kde se dva jízdní pruhy sbíhají v jeden, aniž by bylo zřejmé, který z nich je průběžný.</p> <p>c) Vyústění účelové pozemní komunikace na jinou pozemní komunikaci.</p> |
| 8. | <p>[2 b.] "Nesmět omezit" znamená:</p> <p>a) povinnost řidiče jet vždy při pravém okraji vozovky.</p> <p>b) povinnost počínat si tak, aby jinému účastníku provozu na pozemních komunikacích nebylo nijak překáženo.</p> <p>c) povinnost řidiče dávat přednost v jízdě.</p> |
| 9. | <p>[2 b.] Smí chodec vstupovat na přechod pro chodce nebo na vozovku, přijíždějí-li "vozidla s právem přednostní jízdy"?</p> <p>a) Nesmí pouze v případě, kdy vozidlo s právem přednostní jízdy užije zvláštní výstražné světlo modré nebo modré a červené barvy a zároveň i povinné zvukové výstražné znamení.</p> <p>b) Smí.</p> <p>c) Nesmí. Nachází-li se již na přechodu pro chodce nebo na vozovce, musí neprodleně uvolnit prostor pro projetí těchto vozidel.</p> |

10.

[2 b.] V jednotlivých případech a je-li to naléhavě nutné, mohou vozidla označená parkovacím průkazem pro osoby se zdravotním postižením vjíždět i do oblasti označené dopravní značkou:



©Asociace autoškol ČR 2023

Financováno z fondu zábrany škod ČKP

- a) Emisní zóna.
- b) Pěší zóna.
- c) Zákaz vjezdu všech vozidel v obou směrech.

11.

[2 b.] Mezi prvky pasivní bezpečnosti patří:

- a) Účinný brzdový systém.
- b) Zadržné systémy.
- c) Aerodynamická stabilita.

12.

[2 b.] Dodržel řidič červeného nákladního automobilu při rychlosti 72 km/h (20m/s) bezpečnou vzdálenost za vozidlem jedoucím před ním?



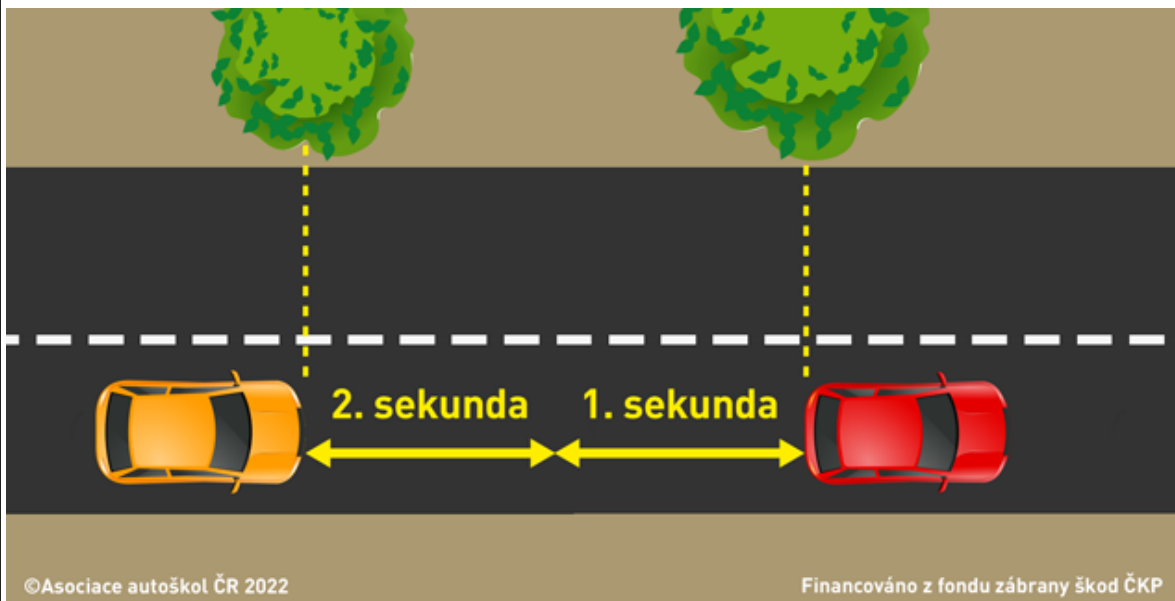
©Asociace autoškol ČR 2022

Financováno z fondu zábrany škod ČKP

- a) Ne.
- b) Ano.

13.

[2 b.] Je minimální bezpečná vzdálenost mezi jedoucími vozidly zákonem přesně definována v metrech?



a) Ne, je třeba zvážit všechny možné faktory. Zejména rychlost, technický stav a konstrukci vozidla, klimatické a adhezni podmínky a reakční dobu řidiče.

b) Ano, je třeba dodržet vždy bezpečnou vzdálenost minimálně 20 metrů a u nákladních automobilů a autobusů vždy 30 metrů.

c) Ano, je třeba dodržet vždy bezpečnou vzdálenost minimálně 30 metrů a u nákladních automobilů a autobusů vždy 40 metrů.

14.

[2 b.] Ovlivní ovládání navigačního systému vozidla za jízdy reakční dobu řidiče nutnou k vyřešení mimořádné události v provozu na pozemních komunikacích?



a) Ano. Řidič se musí plně věnovat řízení vozidla a sledovat situaci v provozu na pozemních komunikacích.

b) Ne. Ovládat navigační systém vozidla za jízdy neprodlužuje reakční dobu řidiče.

15.

[1 b.] Tato dopravní značka:



- a) Upozorňuje na přechod pro chodce, který by řidič jinak neočekával a který není viditelný z dostatečné vzdálenosti.
- b) Upozorňuje na místo nebo úsek pozemní komunikace s možností zvýšeného výskytu chodců anebo častého přecházení chodců přes pozemní komunikaci.
- c) Upozorňuje na místo nebo úsek pozemní komunikace, v jejichž blízkosti se chodci často pohybují nebo shromažďují, přecházejí vozovku, nebo kde hrozí zvýšené nebezpečí jejich nenadálého vběhnutí do vozovky.

16.

[1 b.] Tato dopravní značka zakazuje:



- a) Vjezd vozidel, jejichž okamžitá hmotnost přesahuje údaj uvedený na značce.
- b) Vjezd vozidel, jejichž okamžitá hmotnost připadající na nápravu přesahuje údaj uvedený na značce.
- c) Vjezd vozidel, jejichž nejvyšší dovolená hmotnost přesahuje vyznačenou mez.

17.

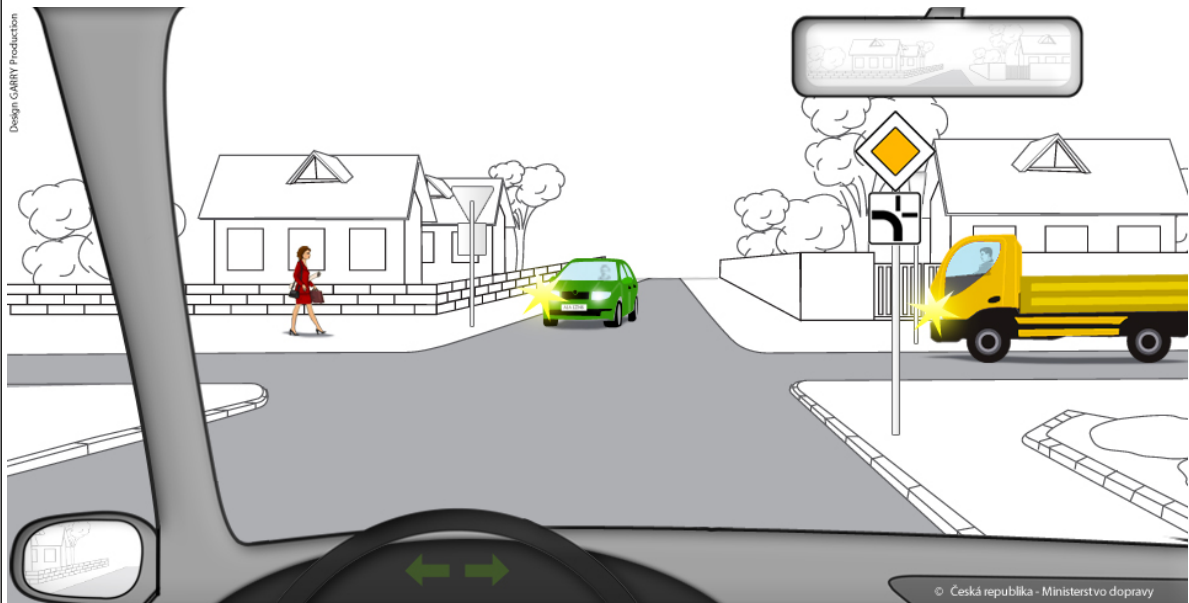
[1 b.] Řidič motocyklu na nejbližší křižovatce:



- a) Může odbočit vpravo, přitom nesmí ohrozit ani omezit cyklistu jedoucího ve vyhrazeném jízdním pruhu.
- b) Může odbočit vpravo, přičemž mu cyklista jedoucí ve vyhrazeném jízdním pruhu musí dát přednost v jízdě.
- c) Nesmí odbočit vpravo.

18.

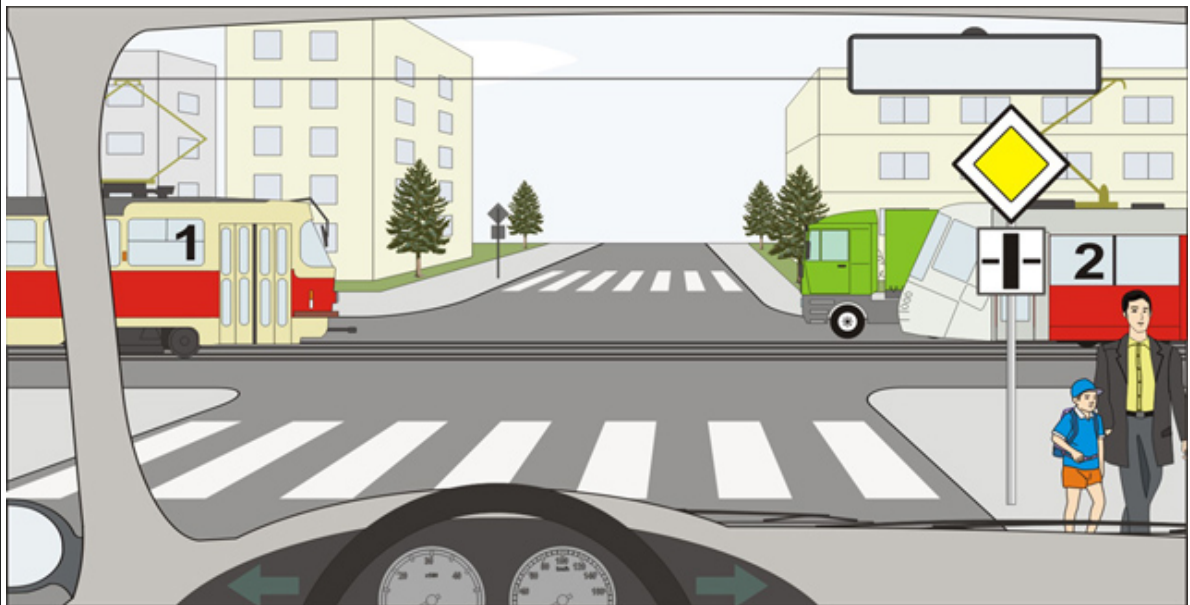
[4 b.] Jste řidičem vozidla z výhledu. V jakém pořadí projedou vozidla touto křižovatkou?



- a) 1. Vaše vozidlo současně s protijedoucím zeleným vozidlem, 2. žluté nákladní vozidlo.
- b) 1. Protijedoucí zelené vozidlo současně se žlutým nákladním vozidlem, 2. Vaše vozidlo.
- c) 1. Protijedoucí zelené vozidlo, 2. žluté nákladní vozidlo, 3. Vaše vozidlo.

19.

[4 b.] Řidič vozidla z výhledu



- a) dává přednost v jízdě tramvaji č. 2.
- b) dává přednost v jízdě oběma tramvajím.
- c) projede křižovatkou jako první.

20.

[4 b.] Na této křižovatce



- a) je přednost v jízdě upravena svislými dopravními značkami.
- b) není přednost v jízdě upravena svislými dopravními značkami.
- c) má přednost v jízdě vozidlo z výhledu.

| | |
|-----|---|
| 21. | <p>[1 b.] Pokud je na silničním vozidle shledána vážná závada, je vozidlo:</p> <p>a) Technicky způsobilé k provozu pouze na dobu 30 dnů ode dne vyznačení zápisu výsledku technické prohlídky silničního vozidla.</p> <p>b) Technicky nezpůsobilé k provozu po dobu nutnou k odstranění závady ode dne vyznačení zápisu výsledku technické prohlídky silničního vozidla.</p> <p>c) Technicky nezpůsobilé k provozu na pozemních komunikacích ode dne vyznačení zápisu výsledku technické prohlídky silničního vozidla.</p> |
| 22. | <p>[1 b.] Kontrolní nálepka osvědčující technickou způsobilost vozidla se umísťuje:</p> <p>a) Na zadní tabulku registrační značky.</p> <p>b) Na přední tabulku registrační značky.</p> <p>c) Podle požadavku zákazníka.</p> |
| 23. | <p>[2 b.] Změna údajů, které jsou zaznamenávány v řidičském průkazu, se příslušnému obecnímu úřadu obce s rozšířenou působností oznamuje nejpozději:</p> <p>a) Do pěti pracovních dnů ode dne, kdy ke změně došlo.</p> <p>b) Do patnácti pracovních dnů ode dne, kdy ke změně došlo.</p> <p>c) Do dvaceti pracovních dnů ode dne, kdy ke změně došlo.</p> |
| 24. | <p>[2 b.] Řidič, který dosáhl 12 bodů a pozbyl řidičské oprávnění, je oprávněn požádat o vrácení řidičského oprávnění nejdříve po uplynutí:</p> <p>a) půl roku ode dne pozbytí řidičského oprávnění.</p> <p>b) 1 roku ode dne pozbytí řidičského oprávnění.</p> <p>c) 1 roku ode dne právní moci rozhodnutí o zákazu činnosti spočívající v zákazu řízení všech motorových vozidel.</p> |
| 25. | <p>[1 b.] Zraněný si po dopravní nehodě stěžuje na bolesti břicha a pocit žízně:</p> <p>a) Nepodáváme mu žádné nápoje.</p> <p>b) Podáváme mu studené nápoje.</p> <p>c) Podáváme mu dostatek vlažných nápojů.</p> |

| Otázka č. | A | B | C | D | E | F | Bodů |
|-----------|---|---|---|---|---|---|------|
| 1 | | | | | | | 2 |
| 2 | | | | | | | 2 |
| 3 | | | | | | | 2 |
| 4 | | | | | | | 2 |
| 5 | | | | | | | 2 |
| 6 | | | | | | | 2 |
| 7 | | | | | | | 2 |
| 8 | | | | | | | 2 |
| 9 | | | | | | | 2 |
| 10 | | | | | | | 2 |
| 11 | | | | | | | 2 |
| 12 | | | | | | | 2 |
| 13 | | | | | | | 2 |
| 14 | | | | | | | 2 |
| 15 | | | | | | | 1 |
| 16 | | | | | | | 1 |
| 17 | | | | | | | 1 |
| 18 | | | | | | | 4 |
| 19 | | | | | | | 4 |
| 20 | | | | | | | 4 |
| 21 | | | | | | | 1 |
| 22 | | | | | | | 1 |
| 23 | | | | | | | 2 |
| 24 | | | | | | | 2 |
| 25 | | | | | | | 1 |

| Otázka č. | A | B | C | D | E | F | Bodů |
|-----------|---|---|---|---|---|---|------|
| 1 | X | | | | | | 2 |
| 2 | X | | | | | | 2 |
| 3 | | | X | | | | 2 |
| 4 | X | | | | | | 2 |
| 5 | X | | | | | | 2 |
| 6 | | | X | | | | 2 |
| 7 | X | | | | | | 2 |
| 8 | | X | | | | | 2 |
| 9 | | | X | | | | 2 |
| 10 | | X | | | | | 2 |
| 11 | | X | | | | | 2 |
| 12 | X | | | | | | 2 |
| 13 | X | | | | | | 2 |
| 14 | X | | | | | | 2 |
| 15 | X | | | | | | 1 |
| 16 | X | | | | | | 1 |
| 17 | X | | | | | | 1 |
| 18 | X | | | | | | 4 |
| 19 | | | X | | | | 4 |
| 20 | | X | | | | | 4 |
| 21 | X | | | | | | 1 |
| 22 | X | | | | | | 1 |
| 23 | X | | | | | | 2 |
| 24 | | X | | | | | 2 |
| 25 | X | | | | | | 1 |